

## Олимпиада по истории, 7 класс (100 б.)

**Задание 1.** Верны ли следующие утверждения? («Да» – «Нет»). Ответы внесите в таблицу.

1. На Руси по началу не было собственной кавалерии. Поэтому для больших походов нанимались печенеги и венгры.
2. 46 лет Франкским королевством правил сын Карла Великого Пипин Короткий.
3. Князя Владимира причислили к лику святых в XIII веке по инициативе Александра Невского.
4. В Куликовской битве русские войска построились традиционно: «свиньей».

**Ответ:**

1	2	3	4
Да	Нет	Да	Нет

**По 2 балла за каждый правильный ответ. Итого: 8 баллов**

**Задание 2.** В таблице перед вами перечень исторических событий (процессов). Выполните задания.

### Перечень событий (процессов)

А) Ледовое побоище (1242)	Б) Присоединение Новгородской земли к Москве (1478 г.)
В) Любечский съезд (1097)	Г) Захват Олегом Киева (882 г.)

1) Установите соответствие между данными событиями (процессами) и изображениями: к каждому событию (процессу) подберите по одному изображению. Ответ занесите в таблицу.

**Ответ:**

А	Б	В	Г
3	4	2	1

**По 4 балла за каждый правильный ответ. Итого: 16 баллов**

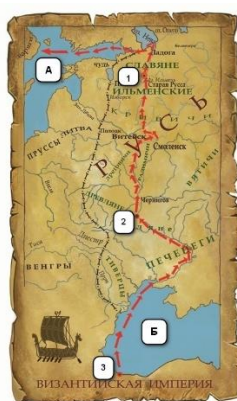
2) Прочтите отрывок из исторического источника и определите, о каком из данных событий (процессов) он повествует. В ответе запишите букву, которой обозначено это событие (процесс).

«<...> пришли Святополк, Владимир, Давыд Игоревич, Василько Ростиславич, Давыд Святославич и брат его Олег и съехались <...> для установления мира, говоря между собой: «Зачем мы губим русскую землю <...> С этих пор будем все единомышленны и храним землю русскую, пусть каждый держит отчину свою: Святополк - Киев, Изяславлю (отчину), Владимир - Всеволожу, Давыд, Олег и Ярослав - Святославлю, а также кому раздал Всеволод города: Давыду - Владимир, Ростиславичам - Перемышль Володарю, Теробовль - Васильку». И на том целовали крест: «Если отныне кто будет против кого, на того будем все и крест честный». Сказали все: «Пусть будет на него крест честный и вся земля русская». И давши клятву, пошли каждый к себе...».

**Ответ: В (4 балла)**

**Итого за все задание: 20 баллов**

**Задание 3.** Рассмотрите карту и выполните задания.



3.1 Напишите название торгового пути, обозначенного на карте красными стрелками.

**Ответ: Варяжский путь, путь «из варяг в греки», Восточный путь. (2 балла)**

3.2. Запишите название морей, обозначенных на карте буквами А и Б. При ответе укажите их изначальное историческое название. Современное название не будет зачтено при оценивании ответа.

**Ответ: А – Варяжское море (2 балла). Б – Русское море (2 балла).**

3.3. Укажите название городов, обозначенных на карте цифрами 1, 2, 3.

**Ответ: 1 – Новгород (2 балла), 2 – Киев (2 балла), 3 – Константинополь, Царьград (2 балла).**





3.4. Укажите век, в котором торговый путь пришел в упадок.

**Ответ: XII в. (2 балла)**

**Итого: 14 баллов за все задание.**

**Задание 4.** Художники XIX века посвятили произведения истории Древней Руси. Определите, каким событиям они посвящены. Ответы внесите в таблицу.

Цифра	Картина	Буква	Событие
1.		А	поход Олега на Константинополь

2.		Б	крещение Руси
3.		В	поход Игоря Святославича на половцев
4.		Г	Невская битва
5		Д	Битва на реке Калке
		Е	Принятие Правды Русской

**Ответ:**

<b>Картина</b>					
<b>Событие</b>	Г	В	Б	А	Е

**По 2 баллу за каждую правильно заполненную ячейку. Итого: 10 баллов**

**Задание 5.** Определите каким этапам/событиям Великой Отечественной войны посветили произведения сибирские поэты. Подпишите под стихотворением название битв/событий, которым они посвящены.

I	II
<p>«Ранний луч безоблачного детства... Я его, признаться, не видал. Не успел восток еще зардеться, Как войны нахлынул грозный шквал. Помню: скорбный голос Левитана, И в слезах у матери лицо, Многолюдный серый полустанок, Где стоял последний раз с отцом...».</p> <p><i>А. П. Казаков</i></p>	<p>«От судьбы тебе некуда деться, Заслала тебе, злая, войну. Свое самое раннее детство Провела ты в блокадном плену. Вспоминаются с болью и тупо Девять сотен обглоданных дней...».</p> <p><i>Л.Е. Долгов</i></p>
<b>Начало Великой Отечественной войны</b>	<b>Блокада Ленинграда</b>
<p>«...Пожертвовал собою, чтоб мир торжествовал. В Берлине, в Трептов-Парке за подвиг исполинский Солдат моей России взошел на пьедестал &lt;...&gt; О, сколько было крови российской здесь пролито, Чтоб над рейхстагом знамя победное поднять! &lt;...&gt;»</p> <p><i>Н. С. Ягунова</i></p>	
<p><b>Окончание Великой Отечественной войны / Битва за Берлин / Безоговорочная капитуляция Германии / Водружение Знамени Победы над рейхстагом</b></p>	

**По 4 балла за каждую правильно названную битву / событие. Итого: 12 баллов**

**Задание 6.** Соотнесите изображения и названия крестьянской утвари.

Цифра	Изображение	Буква	Название
1.		А	Кринка
2.		Б	Чесало для шерсти
3.		В	Рукомойник
4.		Г	Грабилка для ягод
		Д	Трепало

**Ответ:**

Изображение				
Название	В	Г	А	Б

**По 4 баллу за каждую правильно заполненную ячейку. Итого: 16 баллов**

**Задание 7.** Прочтите отрывок из исторического источника и выполните задания.

*Из «Повести о стоянии на Угре»*

«...Князь великий поехал из Коломны на Москву к церквам Спаса и Пречистой Богородицы и к святым чудотворцам, прося помощи и защиты православному христианству, желая обсудить и обдумать это с отцом своим митрополитом Геронтием, и со своей матерью великой княгиней Марфой, и своим дядей Михаилом Андреевичем, и со своим духовным отцом архиепископом ростовским Вассианом, и со своими боярами – ибо все они тогда пребывали в осаде в Москве. И молили его великим молением, чтобы он крепко стоял за православное христианство...

Князь великий послушался их мольбы: взяв благословение, пошел на Угру и, придя, стал у Кременца с небольшим числом людей, а всех остальных людей отпустил на Угру...

[Хан] Ахмат же со всеми татарами пошел по Литовской земле мимо Мценска, Любутска и Одоева и, придя, стал у Воротынска, ожидая, что король придет к нему на помощь.

Король же не пришел к нему и сил своих не послал... Ахмат же пришел к Угре со всеми силами, хотя перейти реку...

И пришли татары, начали стрелять, а наши – в них, одни наступали на войска князя Андрея, другие многие – на великого князя, а третьи внезапно нападали на воевод. Наши поразили многих стрелами и из пищалей, а их стрелы падали между нашими и никого не задевали. И отбили их от берега. И много дней наступали, сражаясь, и не одолели, ждали, пока станет река...

Когда же река стала, тогда князь великий повелел своему сыну, великому князю, и брату своему князю Андрею, и всем воеводам со всеми силами перейти к себе в Кременц, боясь наступления татар – чтобы, соединившись, вступить в битву с противником... Вот тут-то и случилось чудо Пречистой: одни от других бежали, и никто никого не преследовал.

[Хан] же бежал в Орду, и пришел на него ногайский царь Ивак, и Орду взял, и его убил... И так избавил Бог и Пречистая Русскую землю...»

7.1. Укажите название периода в истории России, к которому относятся описанные события. Укажите год, когда они произошли. Укажите имя великого князя, с которым они связаны.

**Ответ:** период борьбы с зависимостью Руси от Золотой Орды / период зависимости Руси от Золотой Орды (2 балла), 1480 г. (2 балл), Иван III (2 балла).

7.2. Как автор повести относится к событиям, о которых он пишет? Кого он поддерживает? Приведите два аргумента для обоснования вашего мнения.

**Ответ:** автор сочувствует великому князю и русским воинам, радуется их успехам (2 балл)

**Аргументы (по 4 балла, максимум – 8 балла):**

- автор описывает события как торжество православного христианства;
- автор называет произошедшее чудом, которое сотворили Бог и Пречистая;
- автор пишет о том, что стрелы ордынцев не нанесли никакого урона русским воинам, тогда как русские стрелы не щадили воинов хана Ахмата.

7.3. Какое значение в отечественной истории имеют описанные события? Приведите одно положение.

**Ответ:** окончание более чем двухсотлетней зависимости Руси от Орды / освобождение Русского государства от зависимости (2 балла).

7.4. С каким процессом в развитии государства связаны эти события? Назовите его.

**Ответ:** объединение русских земель вокруг Москвы / образование единого Российского государства (2 балла).

**Итого: 20 баллов**